

Matematica Senza Frontiere

Elementi di soluzione per la prova 10 febbraio 2009

- Usare solo un foglio risposta per esercizio.
- Sono richieste spiegazioni o giustificazioni per gli esercizi 1, 9, 10, 12 e 13.
- Saranno esaminate tutte le risposte, anche se parziali.
- Si terrà conto dell'accuratezza della soluzione.

Esercizio 1 (7 punti) A ritmo di crociera

Sia n il numero dei giorni di vacanza \rightarrow il libro è fatto da $30n$ pagine. La metà del libro è costituita da $15n$ pagine. Se Piero legge 15 pagine al giorno fino alla metà del libro gli occorreranno n giorni per questa metà e le sue vacanze saranno finite!

In compenso, se leggesse 15 pagine al giorno durante la prima metà delle sue vacanze e 45 pagine al giorno durante la seconda metà, arriverebbe a finire il suo libro. (Questa osservazione non è richiesta agli alunni).

Esercizio 2 (5 punti) Gatto corridore

$$(7+7) \times 7 \times 7 + 7 + 7 = 700$$

Il gatto con gli stivali va da Monza a Kazan in 2 salti semplici, seguiti da due supersalti e 2 salti semplici per finire.

Non ci si aspetta che gli allievi dimostrino che è la soluzione ottimale. Si ha $700 = 2 \times 7^3 + 2 \times 7$

Esercizio 3 (7 punti) Griglia di addizioni

2	7	1	3	13
3	8	7	9	27
1	9	3	8	21
6	24	11	20	

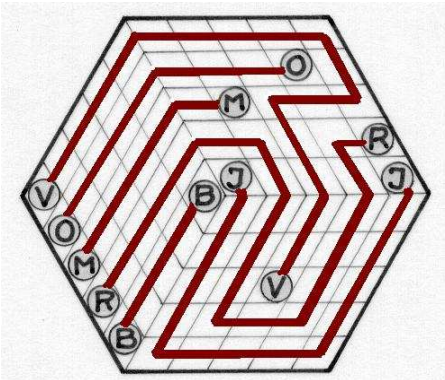
2	7	1	3	13
3	9	7	8	27
1	8	3	9	21
6	24	11	20	

La somma 6 della prima colonna impone il contenuto 1, 2, 3.

Il totale 27 della seconda riga fissa la posizione del 3 e impone il contenuto complementare con 7, 8, 9. Nello stesso tempo il totale della seconda colonna impone il contenuto 7, 8, 9 e la somma della prima riga fissa la posizione del 7.

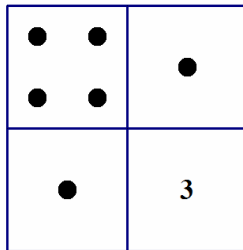
Dalle altre condizioni poi rimangono non vincolate solo le posizioni del 9 e dell'8 nella II e nella IV colonna e quindi consegue che sono possibili solo le due soluzioni riportate.

Esercizio 4 (5 punti) Interconnessioni



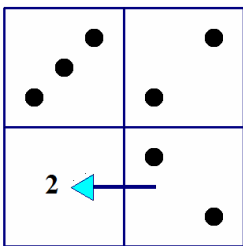
Esercizio 5 (7 punti) Cubo di cubi

La faccia dietro è determinata, il "3" non è orientato.



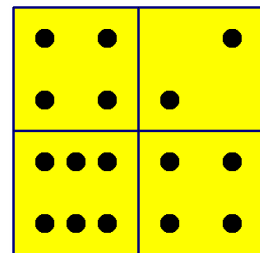
1° caso

Faccia laterale sinistra



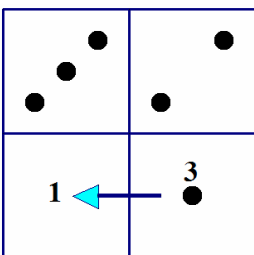
Questa faccia è un "2", quindi anche l'adiacente è un "2".

Faccia sotto



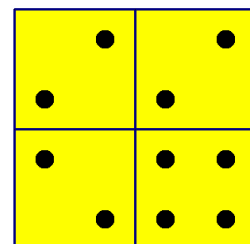
2° caso

Faccia laterale sinistra



Questa faccia è un "3", quindi l'adiacente è un "1".

Faccia sotto



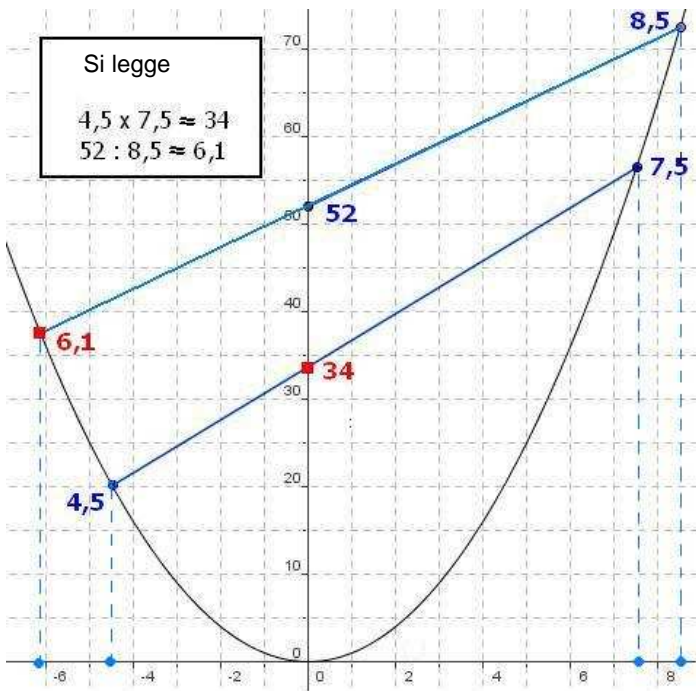
Esercizio 6 (5 punti) Già 20 anni!!

Si può passare da 1989 a 2009 in 5 tappe.

Per esempio:

1 989 ; 1 089 ; 1 189 ; 2 189 ; 2 109 ; 2 009

Esercizio 7 (7 punti) Moltiplicazione parabolica



Infatti siano a e b in valore assoluto, i due fattori della moltiplicazione e t l'ordinata del punto in cui la retta per i punti $(-a, a^2)$ (b, b^2) incontra l'asse delle ordinate

Considerando le rette $y=a^2$, $y=b^2$, $x=-a$, $x=b$ e i triangoli simili che così si formano si ha:

$$\frac{b^2 - a^2}{b - a} = \frac{t - a^2}{|a|}$$

$$|a|(b + a) = t - a^2$$

$$ab = t$$

Per la divisione basta ricordare che è l'inversa della moltiplicazione.

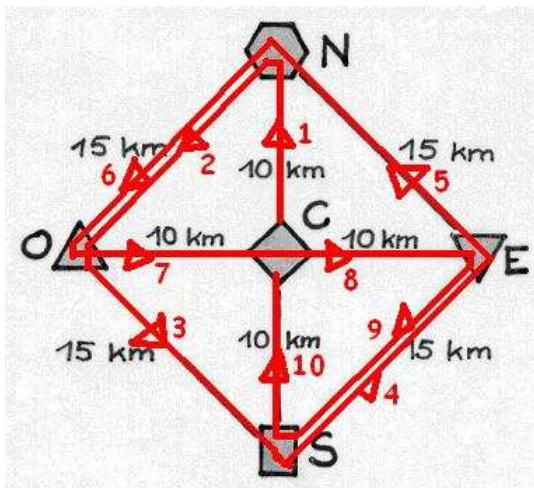
Oppure:

Sia $y=mx+p$ l'equazione di una retta che taglia la parabola. Dall' intersezione retta parabola si ha l'equazione

$$x^2 = mx+p \rightarrow x^2-mx-p=0.$$

Per le relazioni soluzioni-coefficienti $\rightarrow p$ è l'opposto del prodotto delle soluzioni.

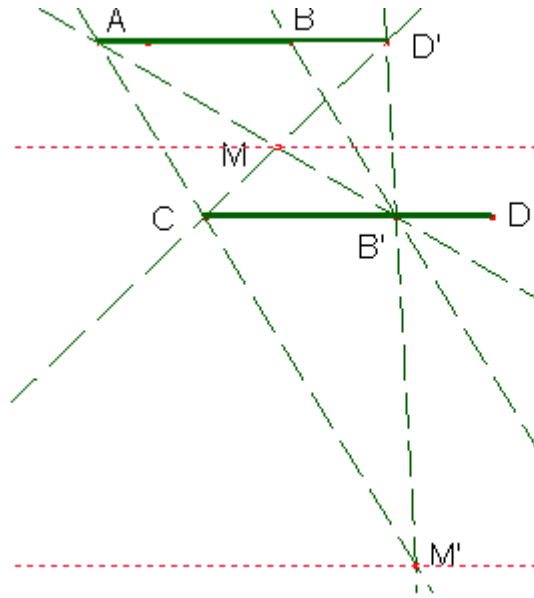
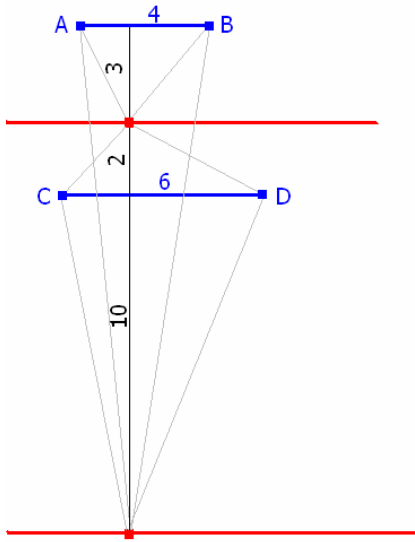
Esercizio 8 (5 punti) Minimo percorso



Ecco una soluzione possibile. La distanza minima è 130 Km
 Si può provare che il percorso è quello minimo così:
 N, E, S, O sono ognuno all'estremità di 3 strade, ma essendo punti di passaggio sono necessariamente anche alle estremità di un numero pari di cammini, dunque di almeno 4 cammini e quindi una delle strade che raggiunge ciascuna delle città N, E, S, O è percorsa due volte. La strada lato del quadrilatero "vale" sia per la città a un capo sia per quella dall'altra parte. Basta quindi percorrere due volte solo 2 lati. L'alternativa è percorrere 2 volte tutte e quattro le strade semidiagonali, ma il cammino è più lungo.

Non ci si attende questa spiegazione dagli allievi.

Esercizio 9 (7 punti) E' nell' "area"



L'insieme delle soluzioni è l'unione di due rette.

Detta h l'altezza del triangolo CMD, le posizioni di queste rette sono date dalle soluzioni delle equazioni $6h/2 = 4(5-h)/2$ e $6h/2 = 4(5+h)/2$

cioè **h=2 e h=10**

Oppure

Perché i due triangoli abbiano la stessa area le rispettive altezze devono essere inversamente proporzionali alle basi e l'insieme dei vertici M è il luogo delle due rette parallele alle basi e a distanza da esse individuata dalla precedente condizione. Tali rette possono essere individuate dalla costruzione nella figura a destra dove $AD'=6\text{cm}$ e $AB'=4\text{cm}$.

Esercizio 10 (10 punti) Taglia-incolla

Siano n e x le dimensioni del rettangolo iniziale.

Ci sono n strisce di x cm e n-1 raccordi di 1 cm per 400 cm di lunghezza totale.

Risulta:

$$nx - (n-1) = 400 \quad \rightarrow \quad n(x-1) = 399$$

e quindi i seguenti casi:

n	x-1	x
1	399	400
3	133	134
7	57	58
19	21	22
21	19	20
57	7	8
133	3	4
399	1	2

Il limite del foglio A4 restringe il numero delle soluzioni a due

n = 19	x = 22	o
n = 21	x = 20	

Speciale terze

Esercizio 11 (5 punti) Tetraedro speciale

Siano M, N, P i punti medi dei lati del triangolo ABC.

Quando si sollevano le facce laterali del tetraedro, le proiezioni dei loro punti A, B, C sul piano di base descrivono rette rispettivamente perpendicolari agli assi di rotazione NP – MP – MN fino a ricongiungersi in H, punto proiezione del vertice S del tetraedro.

Sapendo che NP, MP e MN sono ciascuno paralleli a un lato del triangolo, le loro perpendicolari AH, BH, CH sono le altezze del triangolo ABC, dunque

H è l'ortocentro del triangolo ABC. (la dimostrazione non è richiesta!)

Esercizio 12 (7 punti) Chiaro-scuro

La somma delle aree dei quadrati scuri è:

$$AJ^2 + BK^2 + CL^2.$$

Per il teorema di Pitagora si può anche esprimerla così:

$$(MA^2 - MJ^2) + (MB^2 - MK^2) + (MC^2 - ML^2)$$

o

$$\boxed{MA^2 + MB^2 + MC^2 - (MJ^2 + MK^2 + ML^2)}$$

Analogamente la somma delle aree dei quadrati chiari è:

$$AL^2 + CK^2 + BJ^2 = MA^2 - ML^2 + MC^2 - MK^2 + MB^2 - MJ^2 = \boxed{MA^2 + MB^2 + MC^2 - (MJ^2 + MK^2 + ML^2)}$$

Queste due somme sono uguali.

Esercizio 13 (10 punti) Buco quadrato

L'area del primo quadrato è 64 cm². Si taglia in 4 parti uguali. L'area del quadrato centrale della seconda figura è 16 cm² → il suo lato è 4 cm.

$$\text{Si ha allora il sistema } \begin{cases} x + y = 8 \\ x - y = 4 \end{cases}$$

la cui soluzione è $x=6$ e $y=2$, che rappresenta il "buon taglio".

