

### Pagsasanay 1

Sagutin ang mga sumusunod na pagsasanay ayon sa mapiling linguwahe:


Anna a placé 9 pions numérotés de 1 à 9 sur l'échiquier dessiné ci-dessous, de façon à ce que la somme des nombres de chaque ligne, de chaque colonne et de chacune des deux diagonales soit toujours la même. Toutefois, des pions se sont déplacés... Aidez Anna à remettre les pions à la bonne place!

\*\*\*\*\*

Anna had placed 9 pieces numbered from 1 to 9 on the draughtboard as you can see in the picture, in order that the sum of every line, every column and each of two diagonal lines is always the same. Unfortunately some pieces slipped out.....Help Anna to put the slipped pieces in the right place.

④		
	⑤	⑦

### Pagsasanay 2



Sa isang negosyo ng mga hayop, makikita mo sa isang bintana ay mga asong itim ang balahibo, mga pusang puti ang balahibo at mga ibong matingkad ang kulay ng balahibo.



Si Massimo ay nagbilang mula sa bintanang iyon at ang sabi "sa mga nakalantad ay may 40 paa, 8 buntot na mabalahibo at 7 hayop na matingkad ang kulay".  
Ilan ang aso, ilan ang pusa at ilan ang ibon ang nasa bintanang iyon?  
Paano mo hanapin ang sagot?

### Pagsasanay 3



Isang turistang Australyano ang pupunta at magbabakasyon sa Italya at gustong bisitahin ang mga siyudad ng Monza, Genova, Roma at Venezia. Ang biyahe puweding iplano sa ibat ibang paraan. Mula sa isang siyudad papunta sa kabilang siyudad pero minsan lamang.

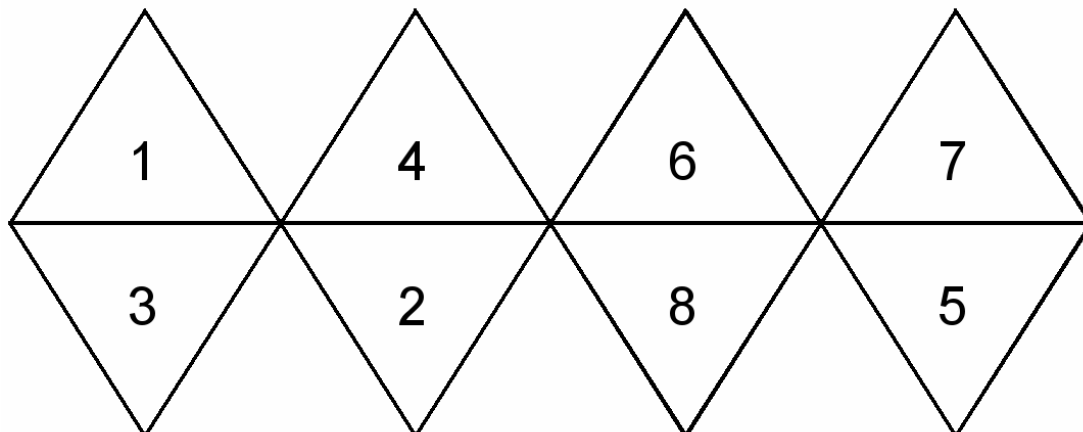
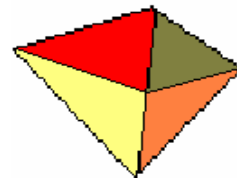
Ilang itinineraryo ang puweding gawin?  
Isulat ang posibleng itinineraryo.

### Pagsasanay 4

Si Giuseppe ay nagbakasyon sa may dagat ng Croazia, gusto niyang bumili ng katas ng kahel dahil uhaw na uhaw siya. Ang inumin ay nagkakahalaga ng 8,50 Kune, siya ay may 1,50 euro. Alam niya na ang isang euro ay katumbas ng 7,17 Kune. Magkano sa pera ni Giuseppe ang magagasto para maibsan ang kanyang pagkauhaw?

### Pagsasanay 5

Gupitin ang nasa larawan at gawing solido na 8 ang harap;

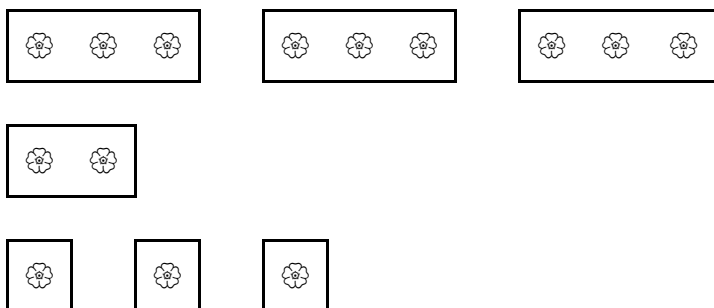


ihagis ng 10 ulit at obserbahan ang lalabas na numero sa taas at baba. Ilarawan ang mga regolang puweding gawin.

### Pagsasanay 6

Ang hardinero ay may 7 paso ng halamang bulaklak, gaya ng nasa larawan sa kanan, itanim niya sa taniman na gaya ng nasa larawan sa baba.

Sa tagiliran ng tahiman nakamarka kung ilang halaman ang dapat itanim sa bawat linya. Hanapin at gawin ang tamang ayos ng taniman ayon sa bigay na indikasyon.



	2	4	1	3	1	3
4						
0						
4						
2						
4						

### Pagsasanay 7

Sa paligid ng plaza na pormang rektanggulo tinaniman ng 16 na punong kahoy: isa ang bawat 4 na sulok at ang iba sa tagiliran na may distansiyang 5 metro.

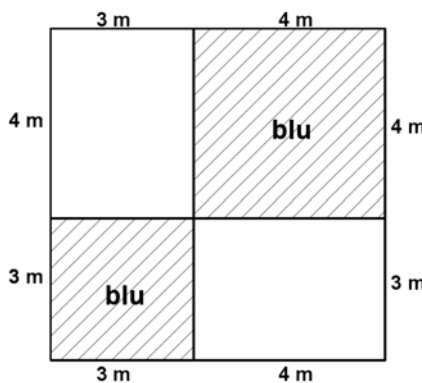
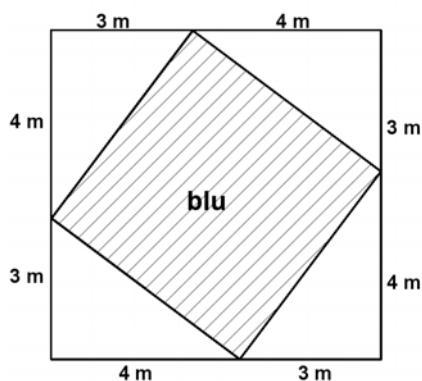
Sa tagilirang mas mahaba ng plaza ay may tanim na 6 na punong kahoy pati na ang nasasulok .

Sa mgo nailarawang sitwasyon, kalkolahin ang dimensiyon ng plaza.

### Pagsasanay 8

Si Mario at Giovanni ay gustong pintahan ang puting dingding na pormang kuwadrato na may 7 metro ang sukat, ng bughaw na pinta.

Ang proposta ni Mario ay ang larawan 1 samantalang si Giovanni ay ang larawan 2.



Aling dekorasyon ang mas matipid ang magagamit na pintang bughaw?  
Pangatwiran ang sagot.

